

¡CAPTURAMOS AL MONSTRUO DE NIVEL 8!

1 Escribe las parejas amigas del 100.

1	2	3	4	5	6	7	8	9	10
11	12	13	14	15	16	17	18	19	20
21	22	23	24	25	26	27	28	29	30
31	32	33	34	35	36	37	38	39	40
41	42	43	44	45	46	47	48	49	50
51	52	53	54	55	56	57	58	59	60
61	62	63	64	65	66	67	68	69	70
71	72	73	74	75	76	77	78	79	80
81	82	83	84	85	86	87	88	89	90
91	92	93	94	95	96	97	98	99	100

38 y

79 y

45 y

64 y

2 Completa hasta llegar a 100.

De 28 a 100	
Se añaden	

De 54 a 100	
Se añaden	

3 Escribe el nombre del estado del agua que corresponda.

hielo  
líquido  
vapor










4 ¿Dónde hay agua en este paisaje? Escribe donde corresponda.


nieve

río

mar


nubes








**5** Observa y marca dos características de cada material.

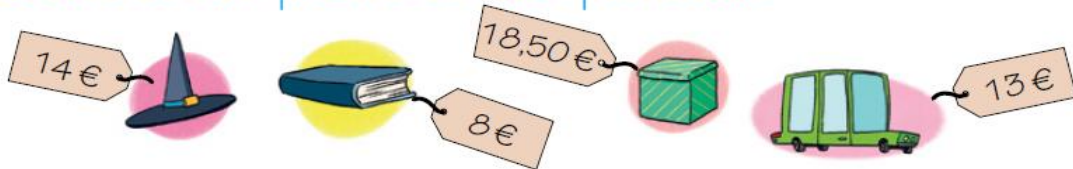
 cristal  transparente  frágil  
 flexible  resistente

 papel  pesado  flexible  
 ligero  rígido

**6** Colorea cada contenedor de su color (verde, azul o amarillo).



**7** Observa los precios de estos productos:



a) Si compro el gorro y el libro, ¿cuánto me gastaré?  €

b) Si me compro la caja sorpresa y pago con 20 €, ¿cuánto me devolverán?  €

c) ¿Cuánto más vale el coche que el libro?  €

**8** Dibuja y escribe la hora en estos relojes:

a) Las cuatro en punto.

b) Las siete y media.

